

# Geografia do Brasil

A natureza brasileira (relevo, hidrografia, clima e vegetação)



# Relevo



- **Planalto:** formado a partir de erosões eólicas (pelo vento) ou pela água
- **Depressões:** resultado de erosões
- **Planície:** como o próprio nome já diz são áreas planas e baixas. As principais planícies brasileiras são as planícies Amazônica, do Pantanal e Litorânea

# Relevo



# Questão Vunesp - Relevo

Analise o mapa.

*Brasil – Áreas ocupadas com a unidade de relevo X.*



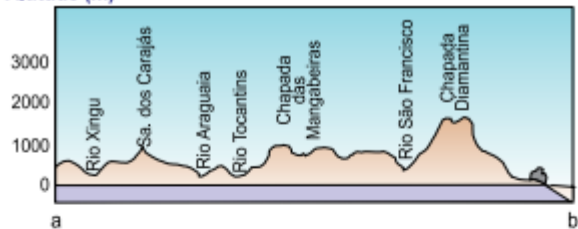
(Jurandyr Ross. Geografia do Brasil. Adaptado)

No mapa, estão em destaque as áreas de

- A) planícies, superfícies planas que foram formadas por intensos processos de sedimentação.
- B) planícies, tipos de formação rochosa que sofrem grande desgaste de agentes como chuvas e vento.
- C) planaltos, formas de relevo ondulado que têm origem a partir de longos processos de erosão.
- D) depressões, superfícies erodidas que se apresentam com altitudes mais baixas que as áreas vizinhas.
- E) planaltos, tipos de relevo que se caracterizam pela pequena variação de altitudes.

# Questão Vunesp

Altitude (m)



(Caldini, Vera e Ísola, Leda. Atlas geográfico Saraiva. Adaptado)

A questão está relacionada ao perfil topográfico e ao mapa apresentados a seguir.



(IBGE)

O perfil topográfico mostra as características do relevo da área destacada no mapa com a linha

- A) 1.
- B) 2.
- C) 3.
- D) 4.
- E) 5.

# Hidrografia



## Características

- Rica em rios e pobre em lagos
- Os rios brasileiros dependem das chuvas para se “alimentarem”. O Rio Amazonas embora precise das chuvas ele também se alimenta do derretimento da neve da Cordilheira dos Andes, onde nasce
- A maior parte dos rios é perene (nunca seca totalmente)
- As águas fluviais deságuam no mar, porém podem desaguar também em depressões no interior do continente ou se infiltrarem no subsolo
- A hidrografia brasileira é utilizada como fonte de energia (hidrelétricas) e muito pouco para navegação.

# Hidrografia

**Bacia Hidrográfica:** É a área compreendida por um rio principal, seus afluentes e subafluentes.

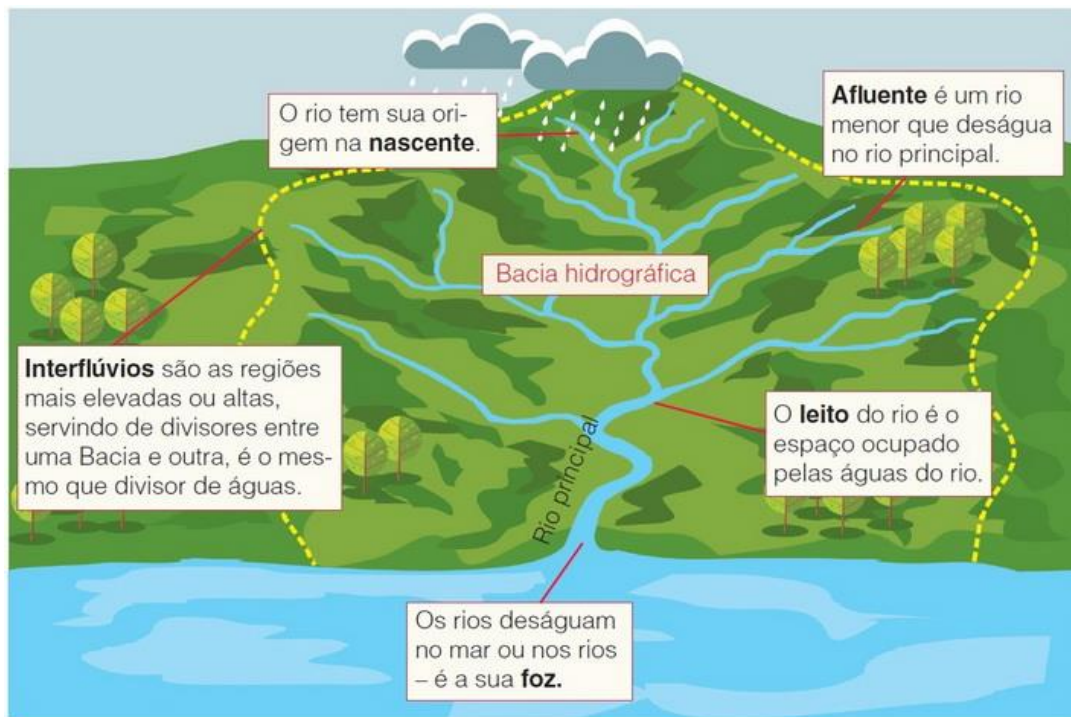
Principais Bacias Hidrográficas do Brasil:

- Bacia Amazônica: considerada a maior do planeta, ela abrange na América do Sul, uma área de 6 milhões de km.

- Bacia do Tocantins: ocupa quase 10% do território nacional. É a maior bacia localizada inteiramente dentro do território brasileiro.

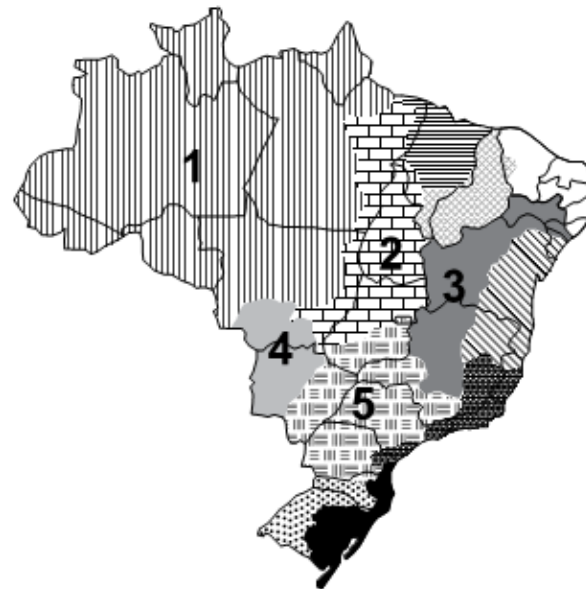
- Bacia do São Francisco: também é totalmente brasileira, juntamente com a Bacia do Tocantins.

- Bacia do Paraná: essa bacia é usada na construção de usinas hidrelétricas, dentre elas, Furnas, Marimondo e a maior hidrelétrica do mundo – Itaipu – (entre o Brasil e Paraguai).



# Questão Vunesp

A questão está relacionada ao mapa apresentado a seguir.



(ANA – Agência Nacional de Águas)

Assinale a alternativa que identifica corretamente uma das bacias hidrográficas brasileiras.

- A)** A bacia 2 abrange uma importante reserva de minérios, reconhecida internacionalmente. Como grande parte dos solos da bacia não são férteis, há pequena atividade agrícola, mas, recentemente, observa-se o avanço da pecuária destinada à produção de leite.
- B)** A bacia 3 tem grande importância histórica; seu rio principal atravessa área de clima semiárido. A agricultura é uma das mais importantes atividades econômicas, com destaque para a fruticultura. O potencial hidrelétrico da bacia é aproveitado por várias usinas.
- C)** A bacia 5 ocupa área com relevo pouco ondulado, o que possibilita a existência de vários rios navegáveis, mas com pequeno potencial hidrelétrico. A área da bacia concentra a maior parte da população nas porções norte e oeste, onde estão as principais cidades.
- D)** A bacia 1 destaca-se por apresentar elevada densidade demográfica, fato que provoca impacto ambiental, principalmente nas áreas próximas às áreas metropolitanas; os modernos cultivos de grãos representam a principal utilização dos solos da bacia.
- E)** A bacia 4 tem a maior parte de sua área em planaltos, o que possibilita aos rios que a compõem grande potencial hidrelétrico já utilizado por várias usinas. Sob o aspecto econômico, as terras da bacia são utilizadas para cultivos de produtos destinados à exportação.



# Questão Vunesp

Analise o mapa para responder à questão.



(Disponível em: <http://educacao.uol.com.br>. Adaptado)

Assinale a alternativa que apresenta corretamente características econômicas da bacia hidrográfica destacada no mapa.

- A) A área da bacia do Tietê se destaca pelas atividades extrativas vegetais e pelos importantes centros industriais cuja produção é voltada para a exportação.
- B) A área da bacia dos rios Grande e Paranaíba destaca-se pela pecuária, que produz carne para exportação, e abriga fazendas dedicadas à monocultura da soja.
- C) A área da bacia do Paraíba do Sul ocupa terras que produzem café e recentemente, cana-de-açúcar que abastece várias usinas.
- D) A área da bacia do Ribeira de Iguape abriga importantes centros urbanos e inúmeras agroindústrias que transformam a laranja em suco para exportação.
- E) A área da bacia do Paraná se destaca pelo elevado grau de modernização de cultivos como a soja e a cana-de-açúcar e, também, pela pecuária.

Acabei de criar um canal gratuito de questões **militares** no telegram



Acesse já clicando no link abaixo

<https://t.me/joinchat/UHRyJIrMTzAPYyva>